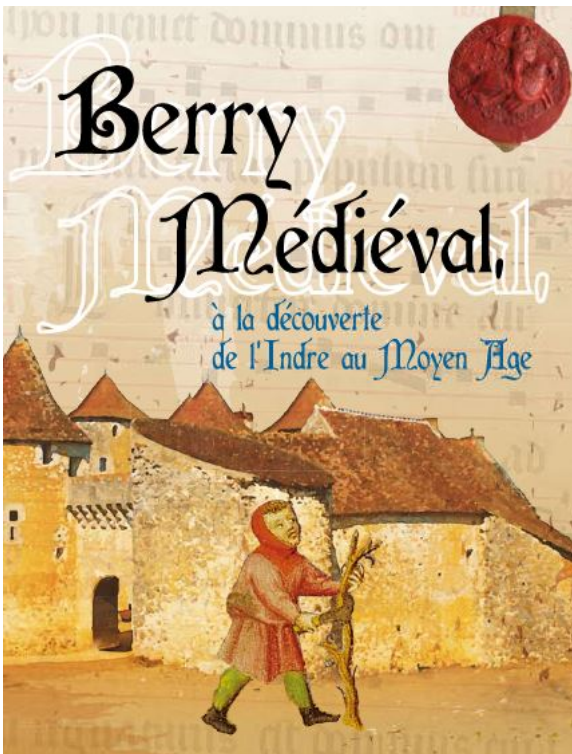


Destiné aux élèves  
de primaire



## Bernarde, la paysanne est une incollable

À l'aide du questionnaire, suis les aventures du personnage.

Les réponses sont sur les panneaux.

À savoir : **(3.)** signifie **panneau 3**

**Bernarde habite sur les terres de Jean de Crevant, seigneur du Gué.**

**1 (8.)** Jean de Crevant a fait rédiger un beau document, comment s'appelle ce document ? \_\_\_\_\_

**2 (8.)** À qui Jean de Crevant doit-il son fief ? Donne son nom \_\_\_\_\_

**3 (8.)** Le seigneur de Crevant décrit l'ensemble des terres, des bois, des étangs qu'il possède. Donne les deux noms de cette description \_\_\_\_\_

**4 (9.)** À ton avis, les images représentées sont des photos ou des peintures ? Souligne la bonne réponse

Tu as trouvé la bonne solution ? Pourquoi tu as choisi cette solution ?

**5** C'est ça, tu as raison. Au Moyen Âge, on recouvrait les murs des églises, des cathédrales de \_\_\_\_\_

6 Bernarde travaille aux champs, peux-tu relier le travail à chaque saison ?

Semailles	→	Été
Vendanges	→	Hiver
Moisson		Printemps
Taille de la vigne		Automne

7 Que fait Bernarde en hiver lorsqu'elle ne travaille pas ?

8 Bernarde ne sait pas lire, aide-la à remettre les lettres à la bonne place, tu peux regarder le panneau pour t'aider

N N A R F F E M E T C I H S A S ⇒

E T C H R A ⇒

S O T P I M ⇒

G E V R E A S ⇒

9 Bernarde voudrait pouvoir se rendre dans une autre paroisse. Elle le peut car elle est libre.

Où va-t-elle se rendre en suivant les consignes : *Au nord de La Célette, au sud de Saint-Martin-de-Pouigny, au sud de Crevant.*

Suis bien les consignes      NORD au-dessus de

SUD en-dessous de

EST à droite de

OUEST à gauche de

10 Complète le texte pour aider Bernarde à mieux comprendre le monde des campagnes. Regarde bien les panneaux 8 et 9.

Au Moyen Âge, les seigneurs font écrire en latin des \_\_\_\_\_. Ces documents décrivent un ensemble de biens : terres, bois, étangs. Il s'agit d'un \_\_\_\_\_ et d'un \_\_\_\_\_ à un seigneur plus puissant, on parle de liens de \_\_\_\_\_.

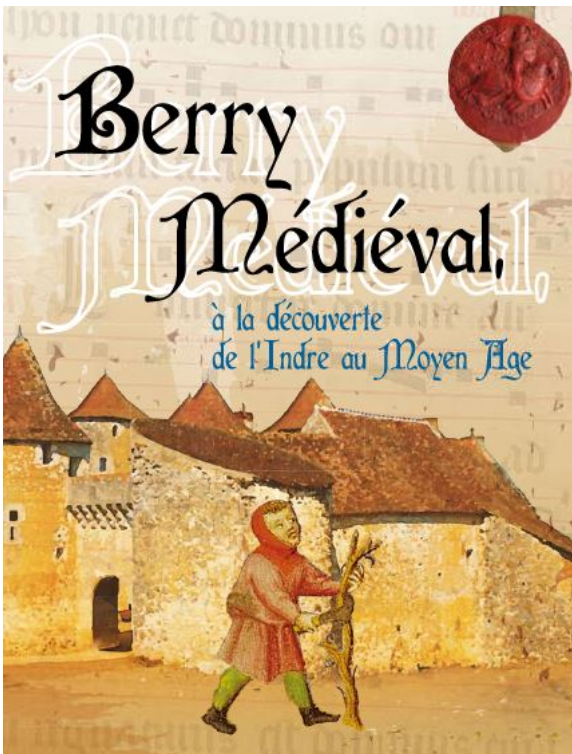
**Complète le texte avec le nouveau vocabulaire découvert plus haut.**

Dans les églises, on peint des \_\_\_\_\_ pour décorer les murs, comme dans l'église de \_\_\_\_\_ qui date du XIII<sup>e</sup> siècle.

En automne, Bernarde \_\_\_\_\_ le raisin, en juin, elle \_\_\_\_\_ les foins et l'hiver elle se \_\_\_\_\_ près de la \_\_\_\_\_.

Bernarde a été \_\_\_\_\_, elle est libre désormais grâce à un acte d'\_\_\_\_\_ . Mais elle doit, à son seigneur \_\_\_\_\_.

Destiné aux élèves  
de primaire



## Blanche, à l'église est une incollable

À l'aide du questionnaire, suis les aventures du personnage.

Les réponses sont sur les panneaux.

À savoir : **(1.)** signifie **panneau 1**

**Blanche est une jeune servante, elle se rend chaque dimanche à l'église pour prier et écouter le prêtre.**

**1 (1.)** Blanche ne sait pas lire. Peux-tu l'aider à remettre dans l'ordre les lettres des mots désignant les deux principaux arts du Moyen Âge ?

G H T Q I O U E      ⇒

M O A R N            ⇒

**2** Blanche recherche le portail de l'église d'Écueillé. À quel art appartient-il ?

Blanche recherche la nef de Levroux. À quel art appartient-il ? \_\_\_\_\_

Blanche recherche le porche de Mézières-en-Brenne. À quel art appartient-il ?  
\_\_\_\_\_

Blanche recherche le chevet de l'église de Fontgombault. À quel art appartient-il ?  
\_\_\_\_\_

**3** Regarde bien la nef des églises de Levroux et de Saint-Benoît-du-Sault. Quelle est la différence ? \_\_\_\_\_  
\_\_\_\_\_

4 Au Moyen Âge, les paroissiens ne savaient pas lire. Comment pouvaient-ils comprendre le message du prêtre, grâce à quoi ? un indice, regarde les murs

---

5 Très bien, tu as trouvé la bonne réponse, au Moyen Âge, les églises étaient peintes. Donne la description de la Cène. De quoi s'agit-il ? Où est située cette fresque ?

---

6 Quelles sont les couleurs dominantes ? Raye les mauvaises réponses.

VERT ROUGE OCRE BLEUE VIOLET JAUNE FLUO

7 Blanche regarde aussi les chapiteaux des églises. Ils représentent parfois, des hommes, des animaux, des feuillages.

Dans quelle église y-a-t'il un décor de feuillage ? \_\_\_\_\_

À quel art appartient cette église ? \_\_\_\_\_


8 Comment s'appellent les objets en forme de trésor situés sur le panneau ?

9 À quoi cela sert-il ?

10 Complète le texte pour aider Blanche à mieux comprendre l'architecture. Le Moyen Âge a vu deux arts apparaître l'art \_\_\_\_\_ et l'art \_\_\_\_\_. Les \_\_\_\_\_ sont des monuments d'art et de foi. Une église est composée d'un \_\_\_\_\_ ou \_\_\_\_\_ par où l'on rentre. À l'intérieur, le grand vaisseau est appelé \_\_\_\_\_. Parfois les chapiteaux sont sculptés de décors d'\_\_\_\_\_, de feuillage ou de \_\_\_\_\_. Sur les murs, il y a des \_\_\_\_\_. Celles de Vic, représentent \_\_\_\_\_. On trouve aussi des \_\_\_\_\_ qui contiennent les \_\_\_\_\_.

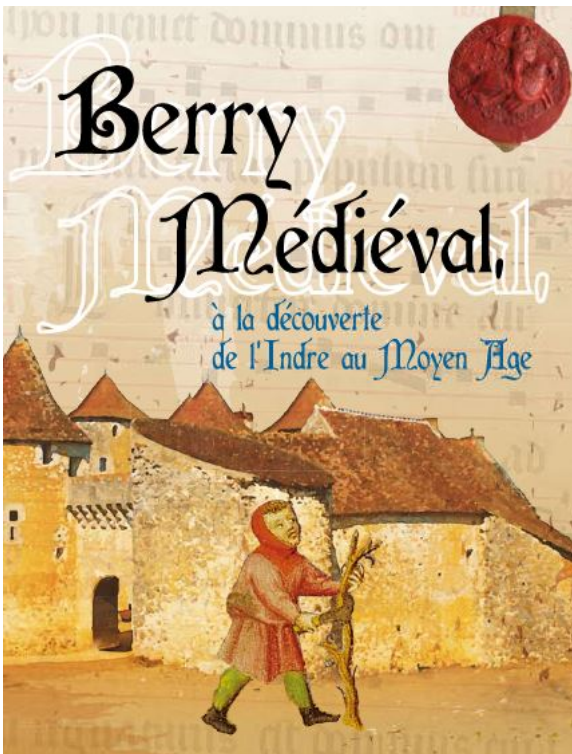
## Dernière minute ... petit jeu artistique

Peux tu aider Blanche à reconnaître le portail roman d'Écueillé (1), le porche gothique de Mézière-en-Brenne (2), un arc boutant de Levroux (3) et enfin un chapiteau de Saint-Benoît-du-Sault (4). Note le numéro sous chaque photo.





Destiné aux élèves  
de primaire



## Chrétien de la Presles est un incollable

À l'aide du questionnaire, suis les aventures du personnage.

Les réponses sont sur le **panneau 7**.

**Chrétien est né en 904, au X<sup>e</sup> siècle. Mais il voyage beaucoup dans le temps, il va t'accompagner pendant plus de 5 siècles, jusqu'au XV<sup>e</sup> siècle.**

**1** Chrétien habite la motte de La Presle. Une motte est élevée avec de la terre que l'on rapporte. Dessus on construit une tour qui s'appelle \_\_\_\_\_

La motte est située dans la forêt. Avec quoi Chrétien va-t-il construire son donjon ?

\_\_\_\_\_

**2** Plus tard, Chrétien va voir ses amis qui habitent le grand donjon de Mazières. À ton avis, en quoi est construit le donjon de Mazières ? \_\_\_\_\_

**3** Donc, on construit d'abord des donjons en \_\_\_\_\_ puis en \_\_\_\_\_.  
Donne le nom des deux matériaux employés.

**4** Lorsqu'il passe près de Châtillon, Chrétien voit un autre donjon. Quelle est sa forme ?

\_\_\_\_\_

Chrétien est surpris. Il y a un grand mur qui protège le donjon. Aide Chrétien à retrouver le mot en remettant les lettres dans le bon ordre

R E A P M R T      ⇒

**5** Mais le mot que tu as trouvé n'est pas le seul qui désigne ce grand mur rond. Tu trouveras le nom après avoir joué au rébus suivant

Mon premier peut être à pois, en couleur ou à rayures ⇒

Mon second est une cravate que je mets sur mon premier ⇒

Mon troisième se met sous une veste ou sous un pull ⇒

Mon tout est un vêtement, c'est une ⇒

**6** Le donjon est une grande tour puissante. Dans quel jeu trouve-t-on une tour, un roi, un chevalier ? un indice : le jeu est blanc et noir \_\_\_\_\_

**7** Lorsqu'il fait chaud, Chrétien et ses amis se baignent à Lys-Saint-Georges. Où peuvent-ils se baigner ? \_\_\_\_\_

Attention, là où Chrétien et ses amis se baignent, c'est un \_\_\_\_\_

Pourquoi ? À quoi cela peut-il bien servir ?

\_\_\_\_\_

\_\_\_\_\_

\_\_\_\_\_

**8** Le château possède aussi des tours \_\_\_\_\_. Regarde le château de Forges, tu trouveras la bonne réponse.

**9** À Forges, à l'aide des mots Tour et Rempart, construis des phrases

\_\_\_\_\_

\_\_\_\_\_

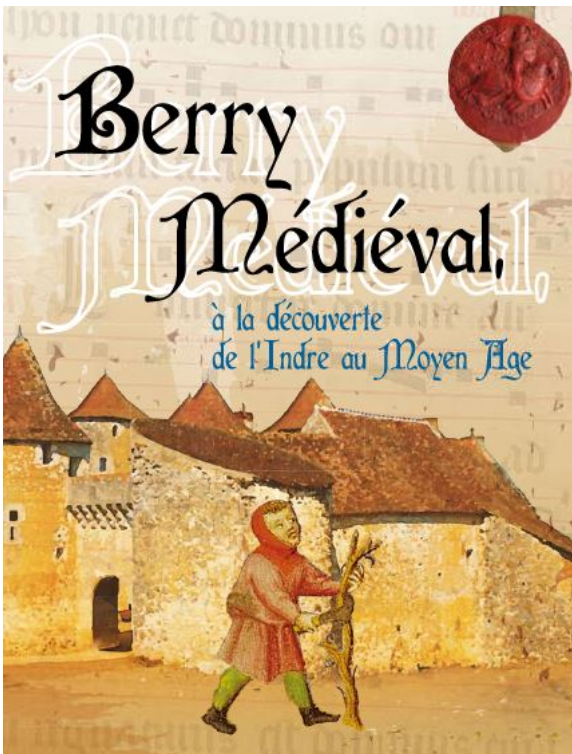
\_\_\_\_\_

**10** Complète le texte pour aider Chrétien de la Presles à mieux comprendre l'évolution du château.

Il y a très longtemps, le donjon était construit en \_\_\_\_\_, provenant de la forêt, sur une \_\_\_\_\_. Puis le donjon est construit en \_\_\_\_\_. C'est une grosse tour puissante, Chrétien la connaît car elle existe dans le jeu \_\_\_\_\_.

Avec ses amis, ils se baignent dans les \_\_\_\_\_ que l'on appelle \_\_\_\_\_. Beaucoup de châteaux ont des \_\_\_\_\_. Mais à Châtillon, le donjon est entouré par une \_\_\_\_\_.

Destiné aux élèves  
de primaire



## Guillaume, jeune moine bénédictin est un incollable

À l'aide du questionnaire, suis les aventures du personnage.

Les réponses sont sur les panneaux.

À savoir : **(3.)** signifie **panneau 3**

**Guillaume est un jeune moine qui vit dans une abbaye qui obéit à la Règle de saint Benoît.**

**1** (1.) Dans quelle église abbatiale peut-il aller prier ? \_\_\_\_\_

**2** (2.) Abbatiale vient de quel mot ? \_\_\_\_\_

Il est écrit que les abbayes sont des centres \_\_\_\_\_

Où imposent-elles leur pouvoir ? \_\_\_\_\_

**3** Que peut prélever une abbaye sur ses terres ? \_\_\_\_\_

**4** Dans une abbaye, où met-on les revenus de la dîme ? \_\_\_\_\_

**5** Que doivent faire les paysans ? \_\_\_\_\_

**6** Les abbayes accueillent aussi les pèlerins, les malades. Ce sont des lieux de \_\_\_\_\_ et d'\_\_\_\_\_.

7 Comment s'appelle un document écrit au Moyen Âge ? Tu as un exemple qui date de 1258 \_\_\_\_\_

8 Quelle est l'écriture utilisée ? Donne son nom \_\_\_\_\_  
Devine qui l'a inventée, c'était un grand empereur au Moyen Âge : \_\_\_\_\_

9 Guillaume doit recopier un document, aide-le à retrouver l'endroit dans l'abbaye, c'est le

P T O U M I C R S I R      ⇒

10 Que peut faire encore Guillaume dans cet endroit ? \_\_\_\_\_  
\_\_\_\_\_  
\_\_\_\_\_

1 1 Donne le nom d'une grande abbaye de ton choix située dans le département  
\_\_\_\_\_

1 2 Vrai ou faux ?

Sur le plan de l'abbaye de Méobecq, y a-t il les lieux indiqués ci-dessous ? Raye les erreurs.

Portail      Supermarché      Église      Cinéma  
Hôtel-Dieu      Cimetière      Restaurant

1 3 Complète le texte pour aider Guillaume à mieux comprendre le monde des moines.

Guillaume est un jeune \_\_\_\_\_, il va à l' \_\_\_\_\_ de \_\_\_\_\_, elle est située près de Châteauroux.

Une abbaye a des pouvoirs qu'elle impose sur ses \_\_\_\_\_. Elle prélève \_\_\_\_\_, sur les \_\_\_\_\_ qui utilisent le moulin de l'abbaye.

Guillaume doit recopier des textes, ce sont des \_\_\_\_\_. Parfois il \_\_\_\_\_ ces documents.

Une abbaye possède parfois un hôtel-dieu, une grange, jamais un restaurant mais toujours une \_\_\_\_\_ où Guillaume va prier.